


التاريخ: / /

اكتب الأرقام :



واجب

أكمل :

٢-

٣+

	٩		٥
	٧		٨
	٢		٤
	٥		٢

حصّة

أكمل :

٢-

٣+

	٤	٨	٥
	٣		٧
	٦		٦
	٨		٤

التاريخ: / /

مع «إيمان» ٩ بالونات طارت منها ٥ بالونات

كم بالونة تبقّت مع «إيمان»؟

$$\dots = 5 - 9$$

رتب الأعداد الآتية تصاعدياً :

← ٢٠، ٢٥، ٢١، ٢٢

رتب الأعداد الآتية تنازلياً :

← ٥، ٢٣، ١٠، ١٧

اكتب الأرقام:

التاريخ: / /



اختر الإجابة الصحيحة مما بين القوسين:

( ٤٨ - ٥٩ - ٧٤ ) ← ..... = ٣٤ + ٢٥

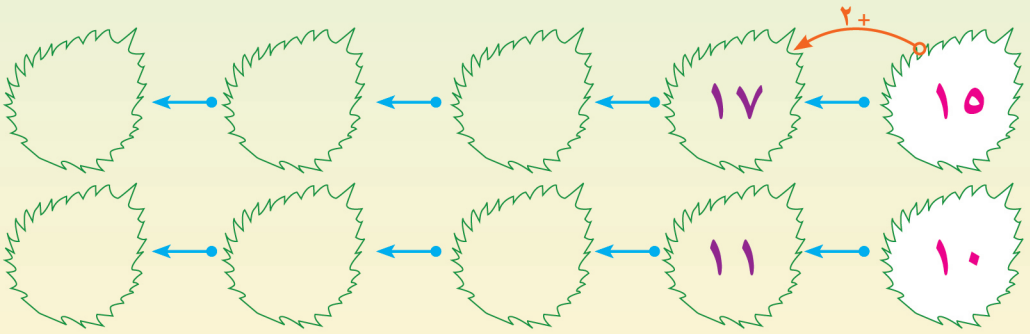
( ٢٩ - ٢٨ - ٣٠ ) ← ..... = ١٤ + ١٥

( ١٢ - ١٣ - ٧٨ ) ← ..... = ٢١ + ٥٧

( ٨٨ - ٩٩ - ٧٧ ) ← ..... = ٢٣ + ٧٦

التاريخ: / /

أكمل بنضى التسلسل:




لدى «صلاح» ٣ أقلام واشترى ٤ أقلام أخرى

كم عدد الأقلام مع «صلاح»؟

..... = ..... + .....

التاريخ: / /

اكتب الأرقام:



مع «نبيل» ٨ جنيهاً اشترى كرةً ثمنها ٦ جنيهاً.

فكم تبقي مع «نبيل»؟

$$\boxed{\quad = \quad - \quad}$$

مع «سهيلة» ٣٥ جنيهاً ومع أختها سندس ١١ جنيهاً.

فكم المجموع؟

$$\boxed{\quad = \quad + \quad}$$

التاريخ: / /

وضع «يوسف» ٧ جنيهاً في الحصالة ثم أخذ منها جنيهاً.

كم تبقي مع «يوسف»؟

$$\boxed{\quad = \quad - \quad}$$

اشترى عمر علبة ألوان ثمنها ٦ جنيهاً ودفتر ثمنه ٣ جنيهاً

ما قيمة ما اشتراه عمر؟

$$\boxed{\quad = \quad + \quad}$$

أكمل بأعداد مناسبة:

$$\begin{array}{ccc|ccc} < & < & < ٥ & < & < & < ٨ \\ > & > & > ٤ & > & > & > ٩ \end{array}$$